

(2/2021)

<u>Spécialité :</u> TS Base de données	<u>Module :</u> Recherche Opérationnelle
	<u>Semestre :</u> 02
<u>Thème 02:</u> Notions de connexité simple et forte	
<u>Objectifs :</u> A la fin du cours, le stagiaire doit être capable de : <ul style="list-style-type: none">• Déterminer si un graphe est non connexe, connexe ou fortement connexe• Déterminer les composantes connexes et fortement connexes dans un graphe• Déterminer le graphe réduit d'un graphe	<u>Pré-requis :</u> - Généralités sur les graphes
<u>Temps prévu :</u> 06 Heures	<u>Plan du Cours :</u> <ol style="list-style-type: none">1. Définitions de chaîne, cycle, chemin, circuit2. Poids d'une chaîne, chemin, cycle, circuit3. Notions de connexité simple et forte4. Graphe connexe et graphe fortement connexe5. Composante connexe et composante fortement connexe6. Graphe réduit
<u>Moyens et aides pédagogiques :</u> - Tableau+ photocopiées	
<u>Documentation :</u> <ol style="list-style-type: none">1. Théorie des graphes. Pages bleues2. Support de cours Mme L. Chatouane	<u>Remarque :</u>

THEME 02: Notions de connexité simple et forte

1. Définition chaîne, cycle, chemin, circuit:

1.1 Chaîne: soit $G=(X,U)$ un graphe, une chaîne joignant 02 sommets x_0 et x_k dans un graphe G est une suite de sommets reliés par des arêtes tels que 02 sommets successifs de la chaîne ont une arête commune.

On la note : $(x_0, x_1, x_2, \dots, x_k)$, on dit que x_0 et x_k sont les extrémités de la chaîne.

Exemple:

Soit le graphe G suivant

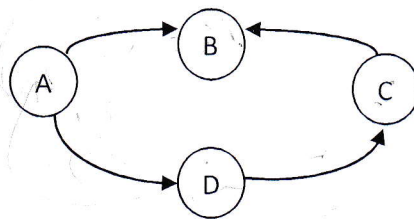


- La suite de sommets suivante (A,B,C,D) est une chaîne joignant A à D
- La suite de sommets suivante (D,C,B) est une chaîne joignant D à B
- La suite de sommets suivante (C,B,A) est une chaîne joignant C à A

1.2 Cycle: est une chaîne dont les 02 extrémités sont confondues (chaîne fermée). **On le note** $(x_0, x_1, x_2, \dots, x_0)$

Exemple:

Soit le graphe G suivant



- La suite de sommets suivante (A,B,C,D,A) est un cycle.

Remarque :

Les notions de **chaîne** et de **cycle** ne respectent pas l'orientation des arcs.

1.3 Chemin: soit $G=(X,U)$ un graphe, **un chemin** de x_0 à x_k dans un graphe G est une suite de sommets reliés successivement par des **arcs orientés** dans le même sens.

On le note : $(x_0, x_1, x_2, \dots, x_k)$

Exemple:

Soit le graphe G suivant :

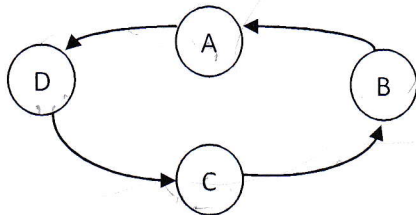


- La suite de sommets suivante (A,D,C,E) est un chemin de A à E
- La suite de sommets suivante (D,C,E) est un chemin de D à E
- Il n'existe pas de chemin de E à D
- Il n'existe pas de chemin de C à A

1.4 Le circuit: est un chemin dont les 02 extrémités sont confondues (chemin fermé). On le note $(x_0, x_1, x_2, \dots, x_0)$

Exemple :

Soit le graphe G suivant :

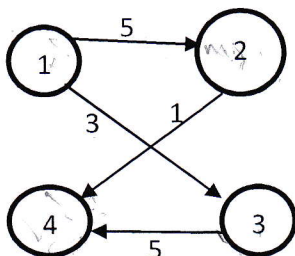


- La suite de sommets suivante (A,D,C,B,A) est un circuit.

2. Poids d'une chaîne, chemin, cycle, circuit : dans un graphe valué, le poids d'une chaîne (chemin, cycle ou circuit) est la somme des poids de ses arêtes (arcs)

Exemple :

Soit le graphe valué suivant :



chemin (1,2,4) : poids = 5+1=6
chaîne (1,2,4,3) : poids = 5+1+5=11

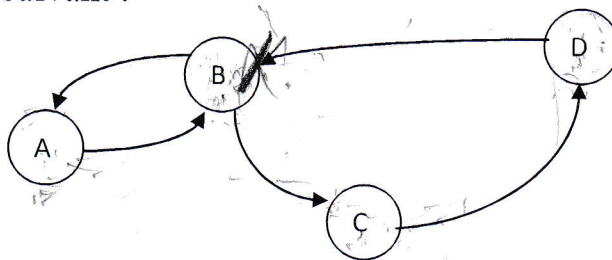
5+1=6

Remarques:

- Une chaîne (chemin, cycle, circuit) est dite **élémentaire** si on passe une seule fois par ses **sommets** (tous les sommets sont différents).
- Une chaîne (chemin, cycle, circuit) est dite **simple** si on passe une seule fois par ses **arêtes** (arcs).
- La **longueur** d'une chaîne (chemin, cycle, circuit) est le nombre de ses arêtes (arcs).

Exemple:

Soit le graphe G suivant :



- (B,C,D,B) est un **circuit élémentaire** et **simple** de longueur 3
- (A,B,C,D) est un **chemin élémentaire** et **simple** de A à D de longueur 3
- (D,C,B,A) est une **chaîne élémentaire** et **simple** de D à A de longueur 3
- (C,B,D,C) est un **cycle élémentaire** et **simple** de longueur 3
- (B,A,B,C,D,B) est un **circuit non élémentaire** (passe 02 fois par B)
- (B,A,B,C,D) est un **chemin non élémentaire**
- (B, A,B,A) est un **chemin non simple** (passe 02 fois par l'arc (B,A))

3. Notions de connexité simple et forte

On définit la **connexité** par une relation entre deux sommets de la manière suivante :

x et y ont une relation de connexité \Leftrightarrow il existe une chaîne entre x et y ou $x=y$

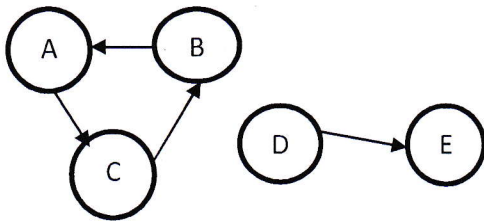
On définit la **forte connexité** par une relation entre deux sommets de la manière suivante :

x et y ont une relation de forte connexité \Leftrightarrow il existe un chemin entre x à y et un chemin de y à x ou $x=y$

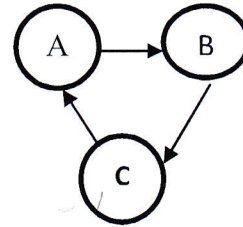
4. Graphe connexe et graphe fortement connexe :

- Un graphe est dit **connexe** si tous ses sommets ont deux à deux une **relation de connexité**.
- Un graphe est dit **fortement connexe** si tous ses sommets ont deux à deux une **relation de forte connexité**.

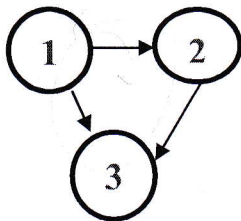
Exemples :



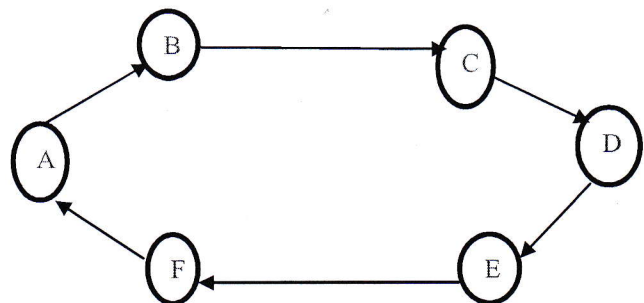
-Graphe non connexe, car il n'y a pas de chaîne entre B et D



-Graphe connexe et fortement connexe



- Graphe connexe, car il y a une chaîne entre chaque 2 sommets, mais pas fortement connexe, car il y a un chemin entre 1 et 2 mais il n'y a pas de chemin entre 2 et 1

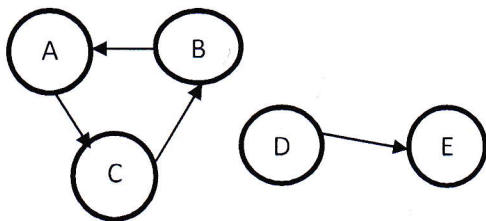


- Graphe connexe et fortement connexe

5. Composante connexe et composante fortement connexe:

- Une **composante connexe** est un sous ensemble de sommets qui ont deux à deux la relation de connexité. De plus tout sommet en dehors de la composante n'a pas de relation de connexité avec aucun des éléments de la composante.
- Une **composante fortement connexe** est un sous ensemble de sommets qui ont deux à deux la relation de forte connexité. De plus tout nœud en dehors de la composante n'a pas de relation de forte connexité avec aucun des éléments de la composante.

Exemple :



{A, B,C} est une composante fortement connexe

Et {D, E} est une composante connexe

On peut conclure que :

Le graphe est **connexe** s'il possède **une seule** composante connexe.

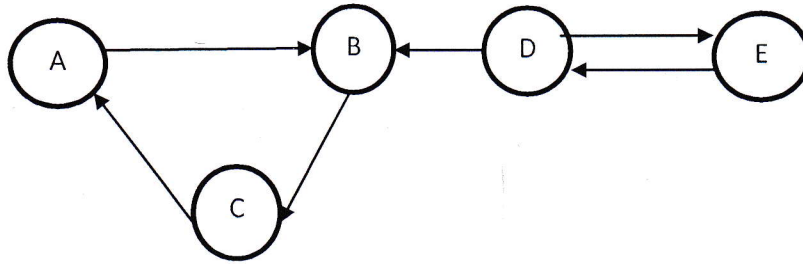
Le graphe est **fortement connexe** s'il possède **une seule** composante fortement connexe.

6. Graphe réduit :

Soit un graphe $G(X, U)$, on appelle graphe réduit du graphe G , le graphe $G_r(X_r, U_r)$: où X_r représente les composantes fortement connexes et les U_r représentent les arcs reliant les composantes fortement connexes.

Exemple :

Soit $G(X, U)$ le graphe orienté suivant :



- Le graphe est-il fortement connexe ?
- Déterminer ses composantes fortement connexes

Ce graphe n'est pas fortement connexe, car on ne peut pas trouver de chemin de A à D par exemple.

Les composantes fortement connexes : on définit deux composantes fortement connexes $A' = \{A, B, C\}$ et $B' = \{D, E\}$

Le graphe réduit du graphe G' est :

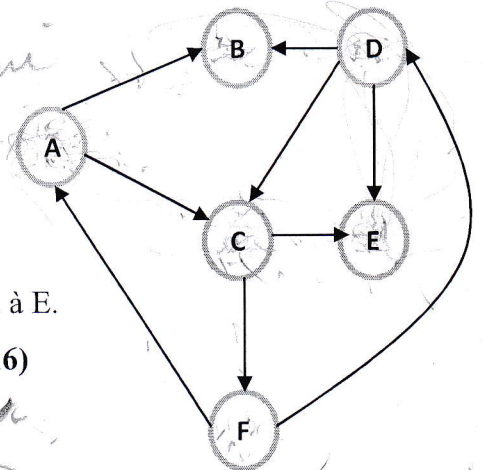


Série d'exercices N° :02

Exercice1 :

1. Complétez les phrases suivantes par (chaîne, chemin, cycle, circuit)

- ch1 = (A,C,E) est *chemin* de A à E.
- ch2 = (A,C,F,A) est *cycle* d'origine A *chemin*
- ch3 = (A,C,F,D,C,E) est *circuit* de A à E.
- ch4 = (A,B,D,E) est *chaîne* de A à E *chemin*
- ch5 = (A,B,D,C,A) est *cycle* d'origine A
- ch6 = (A,B,D,C,F,D,E) est *circuit* de A à E.

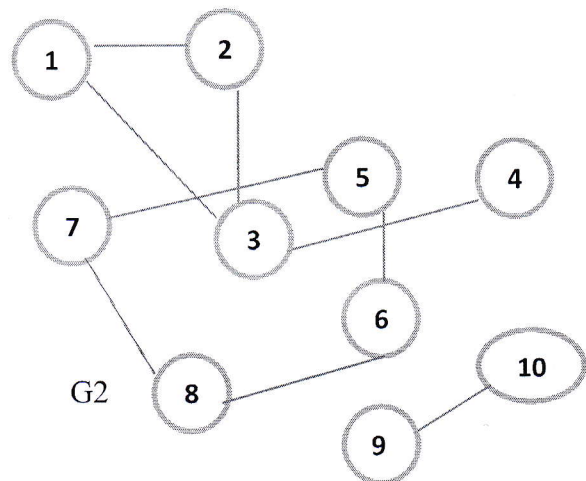
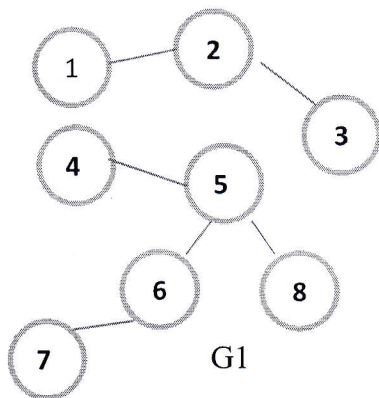


2. Donnez le type et la longueur de (ch1,ch2,ch3,ch4,ch5,ch6)

- 3. ch1 *chemin 3 éléments* de longueur=*3*
- 4. ch2 *cycle 4 éléments* de longueur=*3*
- 5. ch3 *circuit 6 éléments* de longueur=*5* *no élément*
- 6. ch4 *chaîne 4 éléments* de longueur=*3*
- 7. ch5 *cycle 4 éléments* de longueur=.....
- 8. ch6 de longueur=.....

Exercice2 :

1- Nous considérons les graphes suivants, pour chacun dites s'il est connexe, sinon donnez leurs composantes connexes :



G1 est

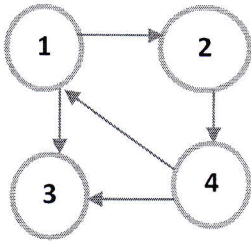
.....

G2 est.....

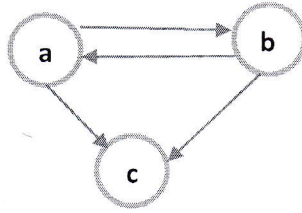
.....

Exercice 03 :

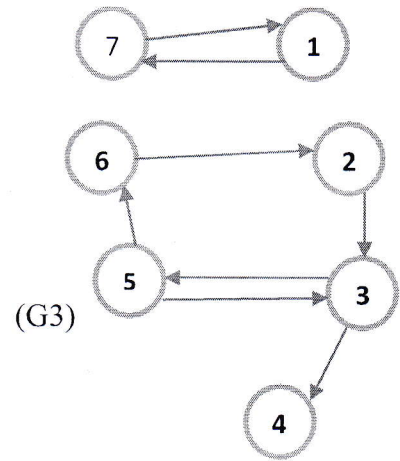
Pour chacun de ces graphes dites s'il est fortement connexe, sinon donnez leurs composantes fortement connexes et leurs graphes réduits :



(G1)



(G2)



(G3)