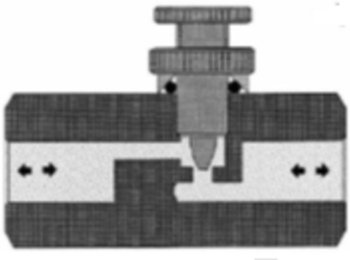
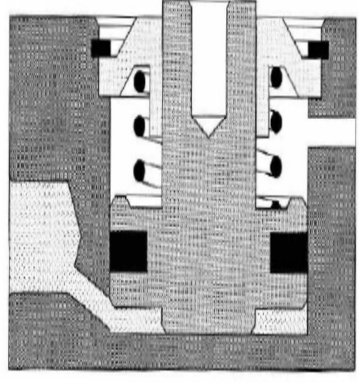
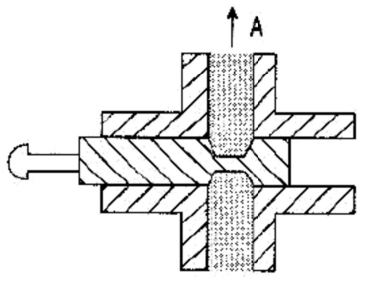
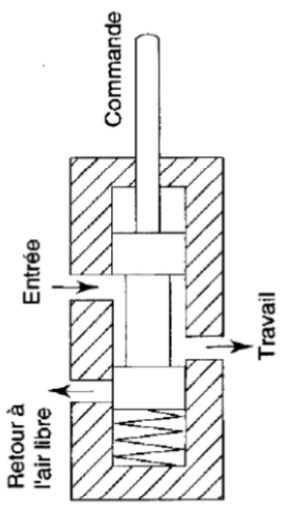
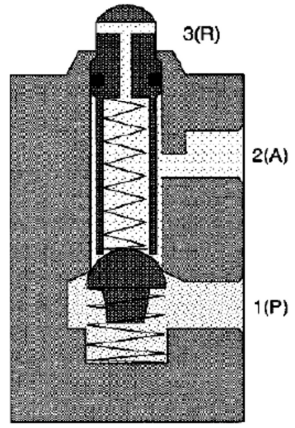
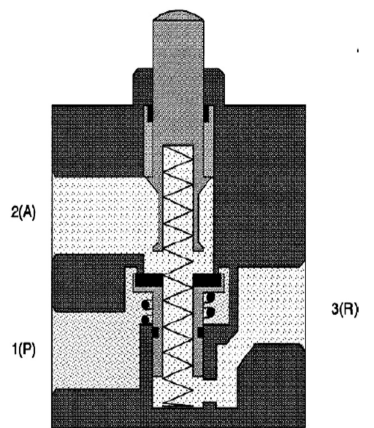


Devoir 7

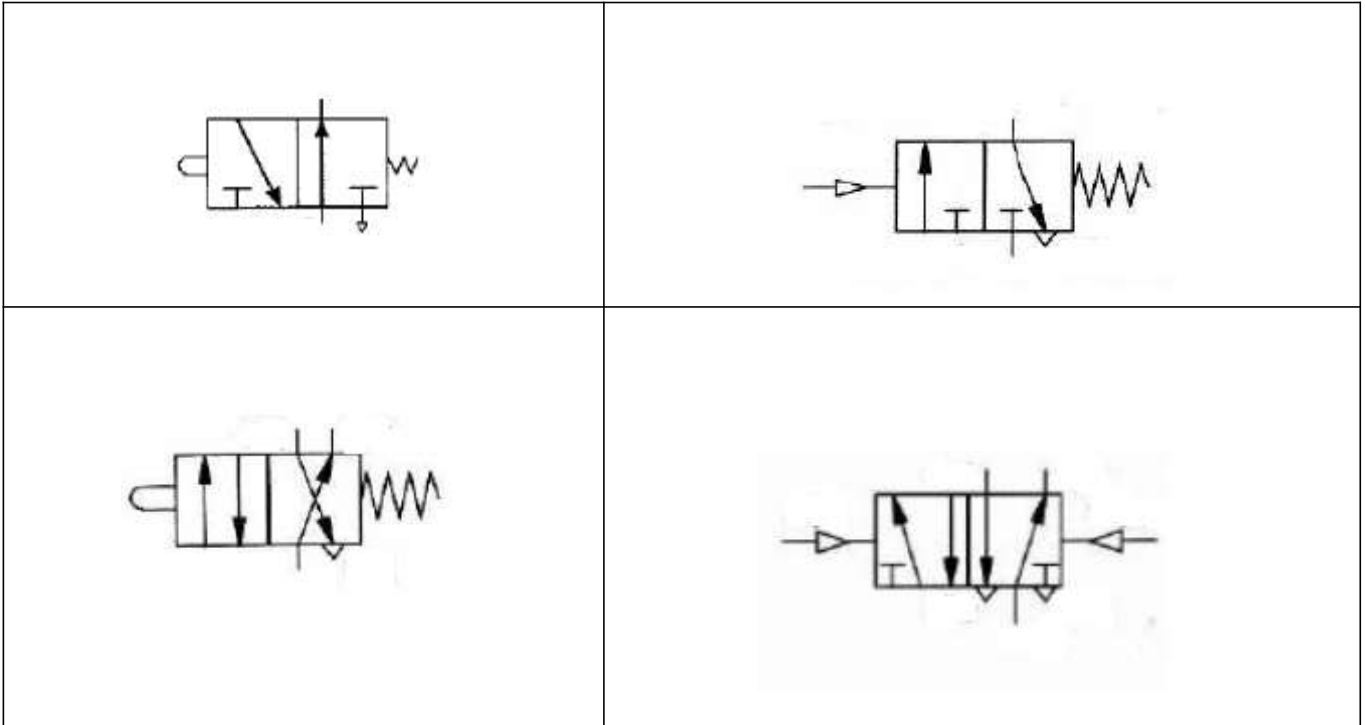
Questions :

1- Compléter le tableau suivant :

<p>NOM : SYMBOLE</p> <div style="text-align: center; margin-top: 20px;">  </div>	<p>NOM : SYMBOLE</p> <div style="text-align: center; margin-top: 20px;">  </div>	<p>NOM : SYMBOLE</p> <div style="text-align: center; margin-top: 20px;">  </div>
<p>NOM : SYMBOLE</p> <div style="text-align: center; margin-top: 20px;">  </div>	<p>NOM : SYMBOLE</p> <div style="text-align: center; margin-top: 20px;">  </div>	<p>NOM : SYMBOLE</p> <div style="text-align: center; margin-top: 20px;">  </div>

2-Donner le :

- NOM du distributeur
- NOM de chaque orifice.



Exercice 01 :

1. Tracer le schéma de l'ensemble : distributeur '5/2' associé avec un vérin de double effet.
2. Tracer le schéma de l'ensemble : distributeur '2/2' associé avec un vérin de simple effet.
3. Tracer le schéma de l'ensemble : distributeur '3/2' associé avec un vérin de double effet.