

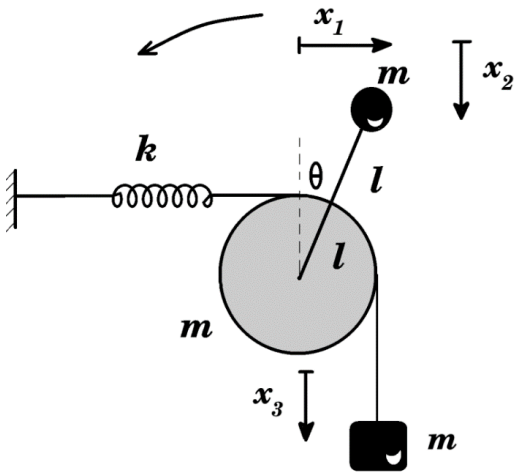
واجب منزلي

التمرين 1 :

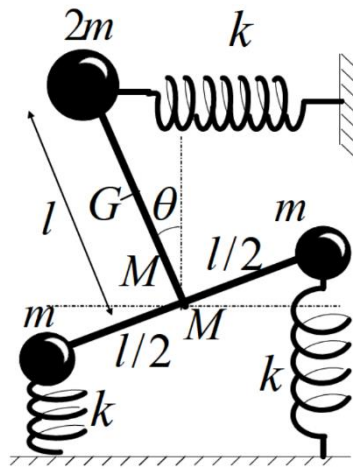
الأنظمة الموضحة في الأشكال 1 ، 2 و 3 تهتز بحرية حول محور ثابت (O) و عند التوازن $\theta=0$ و النوابض غير مشوهة

باعتبار الاهتزازات صغيرة جدا ($\theta \ll 1$)

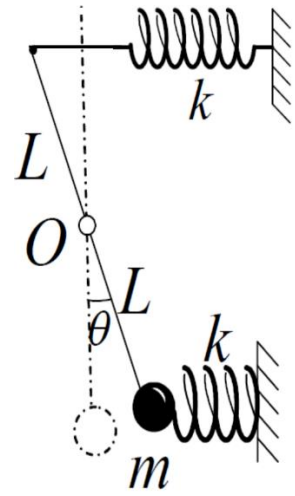
- اعط عبارة الطاقة الحركية E_c ، الطاقة الكامنة E_p لكل نظام بدلالة θ



الشكل 3



الشكل 2



الشكل 1

التمرين 2

في الشكل المقابل (الشكل 4)، خيط عديم الامتطاط يربط من جهة في الكتلة m مثبتة لساق مهملة الكتلة طولها 3l تحمل كتلة m في نهايتها الثانية و مرتبطة بنابض ثابت مرونته k و مخدم ثابت تخامده α و يلف من جهة اخرى حول

قرص نصف قطره l و كتلته 2m ليحمل كتلة m ، عند التوازن تكون الساق في الوضعية الشاقولية والنابض غير

مشوه

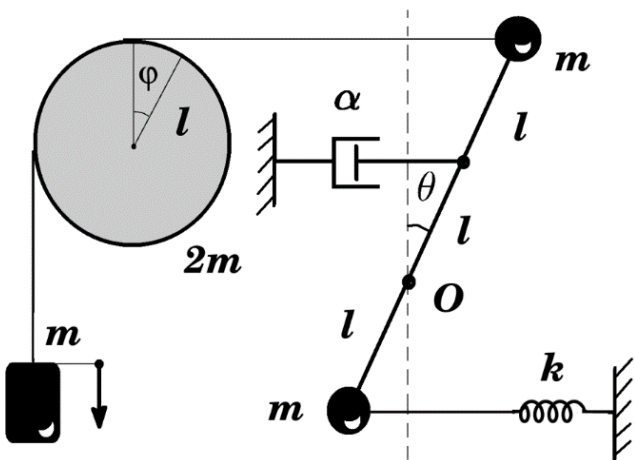
(1) اعط عبارة الطاقة الحركية E_c ، الطاقة الكامنة E_p للنظام بدلالة θ

(2) اكتب عبارة دالة التبدد D بدلالة θ .

(3) اوجد عبارة لاغرانج، و اكتب المعادلة التفاضلية للحركة.

(4) حدد قيمة كل من السعة A و فرق الطور φ من اجل الشروط الابتدائية التالية

$$\theta(0) = \frac{\pi}{20}, \dot{\theta}(0) = 0$$



الشكل 4